

# もくじ

算  
数

1	年生でなったこと①(たし算・ひき算) ……	1
2	年生でなったこと②(たし算・ひき算) ……	3
3	年生でなったこと③(計算) ……	5
4	年生でなったこと④(計算) ……	7
5	年生でなったこと⑤(数・りょう・図形) ……	9
6	年生でなったこと⑥(数・りょう・図形) ……	11
7	年生でなったこと⑦(時こくと時間) ……	13
8	年生でなったこと⑧(時こくと時間) ……	15
答え	……………	17

アル  
ファ  
ベ  
ット

	アルファベット 小文字 ……	19
1	小文字 a~d ……	20
2	小文字 e~l ……	21
3	小文字 m~t ……	23
4	小文字 u~z ……	25
5	小文字 a~z ……	27
6	似ている形の文字	



1年生で ならった こと①  
(たし算・ひき算)

月	日	時	分	分	分
なまえ前			てん点		

① たし算<sup>ざん</sup>を しましょう。

46点(1つ2)

①  $2+1$

②  $1+3$

③  $3+3$

④  $5+2$

⑤  $6+2$

⑥  $3+4$

⑦  $8+1$

⑧  $4+5$

⑨  $7+3$

⑩  $2+8$

⑪  $1+0$

⑫  $0+9$

⑬  $9+5$

⑭  $8+3$

⑮  $7+7$

⑯  $6+8$

⑰  $3+8$

⑱  $5+9$

⑲  $4+7$

⑳  $6+6$

㉑  $11+4$

㉒  $30+40$

㉓  $22+7$

⑬～⑳は、  
10の まとまりを  
つくれば いいね。



2 ひき算<sup>ざん</sup>を しましょう。

40点<sup>てん</sup>(1つ2)

①  $2-1$

②  $5-3$

③  $4-2$

④  $9-5$

⑤  $7-1$

⑥  $8-3$

⑦  $6-4$

⑧  $10-5$

⑨  $10-8$

⑩  $9-0$

⑪  $12-9$

⑫  $13-6$

⑬  $17-8$

⑭  $15-7$

⑮  $14-4$

⑯  $60-20$

⑰  $36-3$

⑱  $13-5$

⑲  $18-9$

⑳  $35-10$

3 計算<sup>けいさん</sup>を しましょう。

14点(1つ2)

①  $1+2+2$

②  $7+3+4$

③  $8-3-2$

④  $17-5-1$

⑤  $4+2-1$

⑥  $16-5+2$

⑦  $13-3+7$

一のくらのい<sup>かず</sup>の数<sup>かず</sup>どうしが ひけな  
い ときは、もとの 数<sup>かず</sup>を 10と  
のこりの 数<sup>かず</sup>に わけて 考えるん  
だったね。





1年生で ならった こと②  
(たし算・ひき算)

月	日	時	分	分	分
なまえ			てん		

1 たし算を <sup>ざん</sup> しましょう。

46点(1つ2)

①  $3+2$

②  $2+2$

③  $7+1$

④  $5+4$

⑤  $4+4$

⑥  $2+7$

⑦  $3+6$

⑧  $6+1$

⑨  $5+5$

⑩  $4+6$

⑪  $2+0$

⑫  $0+8$

⑬  $9+3$

⑭  $5+7$

⑮  $8+4$

⑯  $8+8$

⑰  $7+6$

⑱  $3+9$

⑲  $4+8$

⑳  $6+7$

㉑  $10+6$

㉒  $20+50$

㉓  $32+4$

ゆびや ブロックを  
つかわずに、あたまの  
中で 計算できたかな？



2 ひき算<sup>ざん</sup>を しましょう。

40点<sup>てん</sup>(1つ2)

①  $3-2$

②  $5-4$

③  $8-1$

④  $9-7$

⑤  $7-6$

⑥  $6-3$

⑦  $8-4$

⑧  $10-6$

⑨  $10-3$

⑩  $0-0$

⑪  $11-4$

⑫  $14-8$

⑬  $12-6$

⑭  $15-9$

⑮  $13-3$

⑯  $25-5$

⑰  $50-20$

⑱  $16-4$

⑲  $19-7$

⑳  $30-20$

3 計算<sup>けいさん</sup>を しましょう。

14点(1つ2)

①  $4+6+4$

②  $9-6-2$

③  $5+2-3$

④  $7+3-6$

⑤  $8-2+4$

⑥  $15-5+3$

⑦  $12+7-5$

10をこえるたし算は、あと  
いくつたせば10になるかを  
かんがえるんだったね。





1年生で ならった こと③  
(計算)

月	日	時	分	分
なまえ		てん		
名前		点		

① つぎの <sup>けいさん</sup>計算を しましょう。

27点(1つ3)

①  $2+3$

②  $3+6$

③  $2+2$

④  $5+5$

⑤  $4+2$

⑥  $7-2$

⑦  $5-3$

⑧  $8-1$

⑨  $9-9$

たし算と ひき算を  
まちがえないようにね。



② □に あてはまる <sup>かず</sup>数を かきましょう。

33点(1つ3)

① 10と 3で

② 10と 1で

③ 10と 10で

④ 6と 10で

⑤ 7と 10で

⑥ 15は 10と

⑦ 12は 10と

⑧ 16は 10と

⑨ 19は 10と

⑩ 20は 10と

⑪ 14は 10と

1年生で ならった ことを  
おもい出してね。



3 つぎの <sup>けいさん</sup>計算を しましょう。

40点(1つ2)

①  $3+8$

②  $16-6$

③  $12-3$

④  $2+9$

⑤  $7+5$

⑥  $14-8$

⑦  $11-5$

⑧  $6+7$

⑨  $15-7$

⑩  $8+8$

⑪  $4+9$

⑫  $13-6$

⑬  $6+6$

⑭  $17-8$

⑮  $18-9$

⑯  $5+8$

⑰  $9+6$

⑱  $12-4$

⑲  $11-2$

⑳  $8+9$

たし算の ときの くり<sup>あ</sup>上がりと、  
ひき算の ときの くり<sup>ひ</sup>下がりに  
ちゅういして 計算してね。





4

1年生で ならった こと④  
(計算)

月	日	し 時	ふん 分~	時	分
なまえ 名前		てん 点			

① □に あてはまる <sup>かず</sup>数を かきましょう。 30点(1つ5)

① 1を □に あつめた 数は 100

② 10を □に あつめた 数は 100

③ 99より □ 大きい 数は 100

④ 80より □ 小さい 数は 78

⑤ 40より □ 大きい 数は 50

⑥ 81より 1 小さい 数は □

100は1や10をいくつあつめた数かおぼえてあるかな。



② つぎの <sup>けいさん</sup>計算を しましょう。 30点(1つ3)

①  $3+4+1$

②  $9-1-7$

③  $8-3-1$

④  $3+3+2$

⑤  $1+5+3$

⑥  $10-2-5$

⑦  $4+1+2$

⑧  $6-1-1$

⑨  $7-4-2$

⑩  $2+3+4$



3 つぎの <sup>けいさん</sup>計算を しましょう。

40点(1つ2)

①  $8 - 3 + 4$

②  $2 + 7 - 4$

③  $2 + 6 - 3$

④  $1 + 9 - 6$

⑤  $4 - 1 + 5$

⑥  $3 - 2 + 8$

⑦  $9 - 5 + 1$

⑧  $6 + 4 - 5$

⑨  $4 + 4 - 2$

⑩  $7 - 6 + 7$

⑪  $5 + 2 - 3$

⑫  $6 - 3 + 4$

⑬  $10 - 4 + 2$

⑭  $2 + 5 - 1$

⑮  $4 + 6 - 4$

⑯  $12 - 2 + 1$

⑰  $9 + 1 - 3$

⑱  $16 - 6 + 9$

⑲  $13 - 3 + 4$

⑳  $2 + 8 - 1$

たし算と ひき算が まじって いるので ちゅういして 計算してね。  
3つの 数の 計算は まちがいなく できるように して おこうね。







# 1年生で ならった こと⑤ (数・りょう・図形)

月	日	し 時	ふん 分~	時	分
なまえ 名前		てん 点			



1 いくつか あるでしょう。

16点(1つ4)



( ) 本

( ) 本



( ) 本

( ) 本

2 □ に あてはまる <sup>かず</sup> 数を かきましょう。

24点(1つ4)

① 10 を 4 こと 1 を 7 こと あわせた 数は □ です。

② 38 は 10 を □ こと、1 を □ こと あわせた 数です。

③ 82 の 十のくらはい は □、一のくらはい は □ です。

④ 十のくらいが 4 で、一のくらいが 5 の 数は □ です。

3 □ に あてはまる 数を かきましょう。

16点(1つ4)

①  —  —  —  —

②  —  —  —  —

②は10ずつ  
小さくなって  
いるね。



4 <sup>かず</sup>数が 大きい ほうに ○を かきましょう。

12点(1つ4)

① 

30
20

 ( )    ② 

49
51

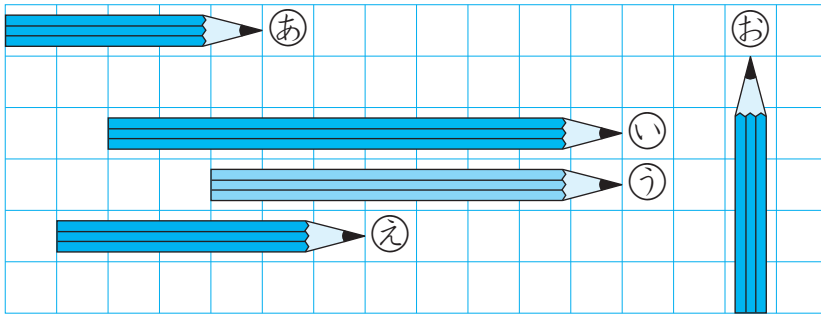
 ( )    ③ 

98
89

 ( )

5 下の <sup>え</sup>絵を 見て <sup>こた</sup>答えましょう。

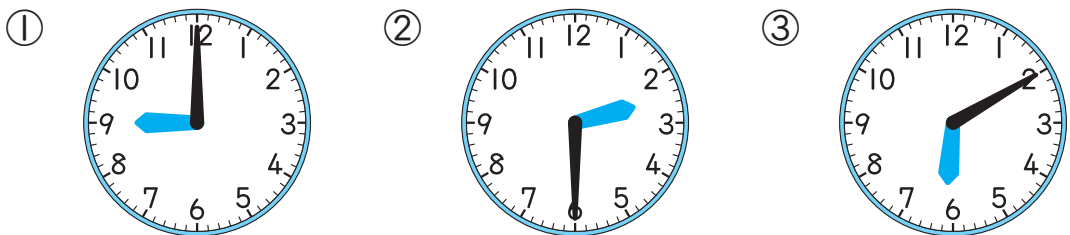
8点(1つ4)



- ① いちばん <sup>なが</sup>長い えんぴつは どれでしょう。 ( )
- ② ①と <sup>おな</sup>同じ 長さの えんぴつは どれでしょう。 ( )

6 <sup>なんじ</sup>何時何分 <sup>ぶん</sup>でしょう。


12点(1つ4)



( )    ( )    ( )

7 が 何まいで できて いるでしょう。

12点(1つ4)



( )    ( )    ( )




6

# 1年生で なった こと⑥ (数・りょう・図形)

月	日	し 時	ふん 分~	時	分
なまえ 名前		てん 点			

① 立っ てる 人は <sup>まえ</sup>前から <sup>なんばん</sup>何番目でしょう。また、うしろから何番目でしょう。 8点(1つ4)



前から  番目、うしろから  番目

②  に あてはまる <sup>かず</sup>数を かきましょう。 16点(1つ4)

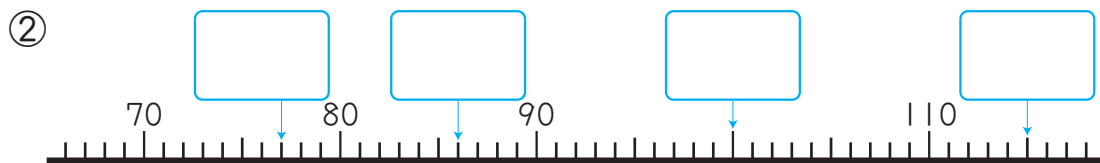
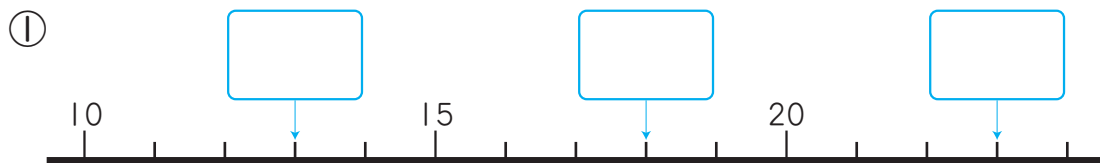
① 79 より 1 大きい 数は

② 100 より 2 小さい 数は

③ 80 は 10 を  に あつめた 数です。

④ 100 を 1こ、10 を 1こ、1 を 6こ あわせた 数は  です。

③  に あてはまる 数を かきましょう。 28点(1つ4)

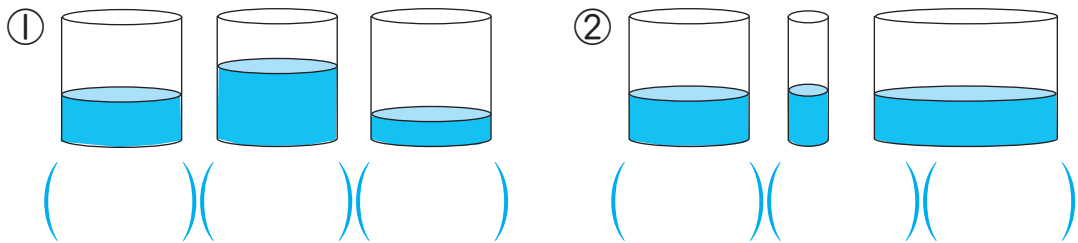


4 <sup>かず</sup>数が 大きい じゅんに かきましょう。

12点(1つ4)

- ① 64、46、56 ( )
- ② 78、81、79 ( )
- ③ 99、102、120、109、112 ( )

5 <sup>かさ</sup>かさが いちばん <sup>おお</sup>多い ものに ○を つけましょう。8点(1つ4)



①は <sup>おな</sup>同じ 大きさの 入れものにはいって いるね。②は いちばん 右の 入れものが いちばん 大きいことに ちゅうもくしよう。



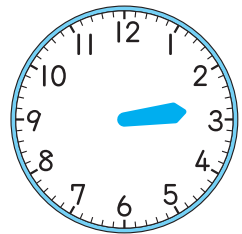
6 <sup>なが</sup>長い はりを かきましょう。

8点(1つ4)

① <sup>じはん</sup>9時半

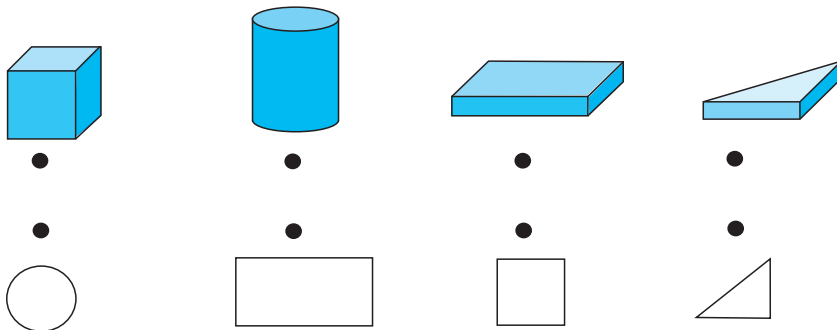


② 2時45分 <sup>ふん</sup>



7 つみきと、つみきの そのの <sup>かたち</sup>形を <sup>せん</sup>線で むすびましょう。

20点(1つ5)





# 1年生で ならった こと⑦ (時こくと時間)

月	日	時	分	分
なまえ		てん点		

① <sup>とけい</sup> 時計を よみましょう。

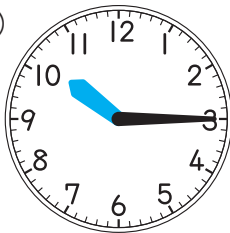
40点(1つ5)

①



( )

②



( )

みじかい はりて  
「何時」、ながい はりて  
「何分」を  
よむんだったね。



③



( )

④



( )

⑤



( )

⑥



( )

⑦



( )

⑧

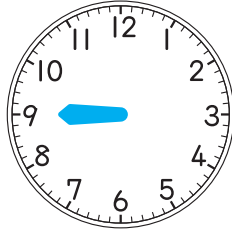


( )

2 <sup>なが</sup>長い <sup>じ</sup>はりを かきましょう。

36点(1つ6)

① 9時



② 8時8分

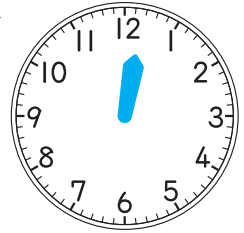


③ 3時30分


3時半とも  
いうよ。



④ 12時20分



⑤ 6時41分



⑥ 1時52分



3 <sup>せん</sup>線で おすびましょう。

24点(1つ6)



●

●

●

●

●

●

●

●

12時

4:26

11:38

2時13分



# 1年生で ならった こと⑧ (時こくと時間)

月	日	時	分	分	分
なまえ		てん			
名前		点			

① <sup>とけい</sup> 時計を よみましょう。

40点(1つ5)

①



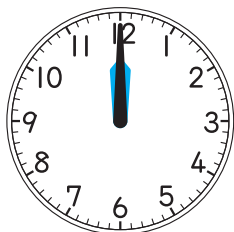
( )

②



( )

③



( )

④



( )

⑤



( )

⑥



( )



⑦



( )

⑧




( )



2 <sup>なが</sup>長い <sup>はり</sup>はりを <sup>かき</sup>かきましょう。

36点(1つ6)

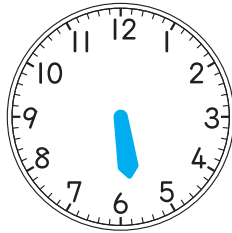
① 11時23分



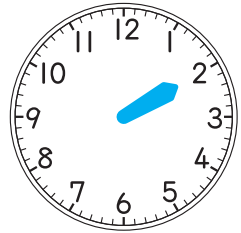
② 4時12分



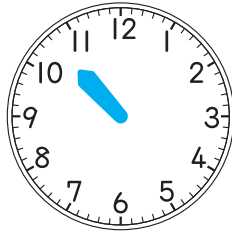
③ 5時43分



④ 2時



⑤ 10時35分



⑥ 7時6分



3 <sup>せん</sup>線で <sup>むす</sup>むすびましょう。

24点(1つ6)



•

•

•

•

•

•

•

•

8:56

1:39

12時3分

6時3分

# 答え

## え

### たし算・ひき算



#### 1 | 1年生で ならった こと①

- 1 ① 3 ② 4 ③ 1 ④ 2 ⑤ 6 ⑥ 7 ⑦ 2 ⑧ 5 ⑨ 9 ⑩ 10 ⑪ 1 ⑫ 9 ⑬ 14 ⑭ 11 ⑮ 14 ⑯ 14 ⑰ 11 ⑱ 14 ⑲ 11 ⑳ 12 ㉑ 15 ㉒ 70 ㉓ 29
- 2 ① 1 ② 2 ③ 2 ④ 4 ⑤ 6 ⑥ 5 ⑦ 2 ⑧ 5 ⑨ 2 ⑩ 9 ⑪ 3 ⑫ 7 ⑬ 9 ⑭ 8 ⑮ 10 ⑯ 40 ⑰ 33 ⑱ 8 ⑲ 9 ㉑ 25 ㉒ 15 ㉓ 14 ㉔ 3 ㉕ 11 ㉖ 5 ㉗ 13 ㉘ 17

#### 2 | 1年生で ならった こと②

- 1 ① 5 ② 4 ③ 8 ④ 9 ⑤ 8 ⑥ 9 ⑦ 9 ⑧ 7 ⑨ 10 ⑩ 10 ⑪ 2 ⑫ 8 ⑬ 12 ⑭ 12 ⑮ 12 ⑯ 16 ⑰ 13 ⑱ 12 ⑲ 12 ⑳ 10 ㉑ 16 ㉒ 70 ㉓ 36
- 2 ① 1 ② 1 ③ 7 ④ 2 ⑤ 1 ⑥ 3 ⑦ 4 ⑧ 4 ⑨ 7 ⑩ 0 ⑪ 7 ⑫ 6 ⑬ 6 ⑭ 6 ⑮ 10 ⑯ 20 ⑰ 30 ⑱ 12 ⑲ 12 ⑳ 10 ㉑ 14 ㉒ 1 ㉓ 4 ㉔ 4 ㉕ 10 ㉖ 13 ㉗ 14

#### おうちの方へ

ゆびやブロックをつかわず、あたえの計算でできるようにするのですが、1と9、2と8のようにならざるにしましょう。

- 1 ⑬～⑳とあといくつで10になるかを考えます。
- 2 ①～⑭、⑱、⑳のまとまりからひくことを考えます。  
① 10から9をひいて1、1と2で3  
または  
12から2をひいて10  
10から7をひいて3

#### おうちの方へ

くり上がりのあるたし算やくり下がりのあるひき算は、まちがえやすいので、気をつけましょう。9をたすのはとくいだが、6をたすのはにがて、というように、数によって計算しづらいいこともあります。まちがえたところは、しっかりとふくしゅうしておきましょう。

# 答え

## え

### 計算



#### 3 | 1年生で ならった こと③

- 1 ① 5 ② 9 ③ 4 ④ 10 ⑤ 6 ⑥ 5 ⑦ 2 ⑧ 7 ⑨ 0
- 2 ① 13 ② 11 ③ 20 ④ 16 ⑤ 17 ⑥ 5 ⑦ 2 ⑧ 6 ⑨ 9 ⑩ 10 ⑪ 4
- 3 ① 11 ② 10 ③ 9 ④ 11 ⑤ 12 ⑥ 6 ⑦ 6 ⑧ 13 ⑨ 8 ⑩ 16 ⑪ 13 ⑫ 7 ⑬ 12 ⑭ 9 ⑮ 9 ⑯ 13 ⑰ 15 ⑱ 8 ⑲ 9 ⑳ 17

#### おうちの方へ

1年生のふくしゅうなので、まちがえたら、しっかりと見なおしましょう。

- 1 答えが10までの数のたし算と、くり下がりのないひき算です。
- 2 ことばであらわされた、たし算とひき算のもんだいで、たし算やひき算のしきにかきおとして、計算した答えが、あてはまる数になります。
- 3 くり上がりのあるたし算と、くり下がりのあるひき算です。たし算かひき算か記ごとにちゅういます。

#### 4 | 1年生で ならった こと④

- 1 ① 100 ② 10 ③ 1 ④ 2 ⑤ 10 ⑥ 80 ⑦ 8 ⑧ 1 ⑨ 4 ⑩ 8 ⑪ 9 ⑫ 7 ⑬ 4 ⑭ 8 ⑮ 1 ⑯ 9 ⑰ 5 ⑱ 8 ⑲ 5 ⑳ 8 ㉑ 5 ㉒ 6 ㉓ 4 ㉔ 7 ㉕ 8 ㉖ 6 ㉗ 11 ㉘ 7 ㉙ 19 ㉚ 14 ㉛ 9
- 2 ① 8 ② 1 ③ 4 ④ 8 ⑤ 9 ⑥ 3 ⑦ 7 ⑧ 4 ⑨ 1 ⑩ 9 ⑪ 5 ⑫ 8 ⑬ 9 ⑭ 5 ⑮ 6 ⑯ 4 ⑰ 7 ⑱ 14 ⑲ 14 ㉑ 9
- 3 ① 9 ② 5 ③ 5 ④ 4 ⑤ 8 ⑥ 9 ⑦ 5 ⑧ 5 ⑨ 6 ⑩ 4 ⑪ 4 ⑫ 7 ⑬ 8 ⑭ 6 ⑮ 6 ⑯ 11 ⑰ 7 ⑱ 19 ㉑ 9

#### おうちの方へ

100までの数と、3つの数の計算のふくしゅうです。  
1 わかりにくければ、図や数の線をかいて考えてみるとよいでしょう。

2・3 たし算とひき算のまじった3つの数の計算もんでいます。くり上がりはありませんが、+、-の記ごとに数をつけましょう。

# 答え

## 数・りょう・図形

⑤ 1年生で ならった こと

- ①42      ②56
- ③100    ④134
- ①47      ②3、8
- ③8、2    ④45
- ①60、62   ②60、30
- ①30に○   ②51に○   ③98に○
- ①①①      ②②②
- ①9時   ②2時30分   ③6時10分
- ①3まい   ②5まい   ③4まい

⑥ 1年生で ならった こと

10が10こで100になることをしっかりおさえます。どのくらいにどの数字がくるかなど、数のしくみがりがりきてきているかをかくにんしましょう。2年生では、さらに大きい数を学ぼうしますので、きほんをみてつけておくことが大切です。

⑦ 時こくを正かくによみとれるように、家で何どもれんしゅうしておきましょう。

⑥ 1年生で ならった こと

- 3、7
  - ①80   ②98   ③8   ④116
  - ①13、18、23
- ②77、86、100、115

# 答え

## 時こくと時間

⑦ 1年生で ならった こと

- ①7時      ②10時15分
- ③6時4分   ④8時30分(8時半)
- ⑤3時      ⑥1時21分
- ⑦9時56分   ⑧5時34分

⑧ 1年生で ならった こと

① ② ③ ④ ⑤ ⑥

⑦ 11時30分(11時半)

⑧ ① ② ③ ④ ⑤ ⑥

⑨ ① ② ③ ④ ⑤ ⑥

⑩ ① ② ③ ④ ⑤ ⑥

⑪ ① ② ③ ④ ⑤ ⑥

⑫ ① ② ③ ④ ⑤ ⑥

⑬ ① ② ③ ④ ⑤ ⑥

⑭ ① ② ③ ④ ⑤ ⑥

⑮ ① ② ③ ④ ⑤ ⑥

⑯ ① ② ③ ④ ⑤ ⑥

⑰ ① ② ③ ④ ⑤ ⑥

⑱ ① ② ③ ④ ⑤ ⑥

⑲ ① ② ③ ④ ⑤ ⑥

⑳ ① ② ③ ④ ⑤ ⑥

㉑ ① ② ③ ④ ⑤ ⑥

㉒ ① ② ③ ④ ⑤ ⑥

㉓ ① ② ③ ④ ⑤ ⑥

㉔ ① ② ③ ④ ⑤ ⑥

㉕ ① ② ③ ④ ⑤ ⑥

㉖ ① ② ③ ④ ⑤ ⑥

㉗ ① ② ③ ④ ⑤ ⑥

㉘ ① ② ③ ④ ⑤ ⑥

㉙ ① ② ③ ④ ⑤ ⑥

㉚ ① ② ③ ④ ⑤ ⑥

㉛ ① ② ③ ④ ⑤ ⑥

㉜ ① ② ③ ④ ⑤ ⑥

㉝ ① ② ③ ④ ⑤ ⑥

㉞ ① ② ③ ④ ⑤ ⑥

㉟ ① ② ③ ④ ⑤ ⑥

㊱ ① ② ③ ④ ⑤ ⑥

㊲ ① ② ③ ④ ⑤ ⑥

㊳ ① ② ③ ④ ⑤ ⑥

㊴ ① ② ③ ④ ⑤ ⑥

㊵ ① ② ③ ④ ⑤ ⑥

㊶ ① ② ③ ④ ⑤ ⑥

㊷ ① ② ③ ④ ⑤ ⑥

㊸ ① ② ③ ④ ⑤ ⑥

㊹ ① ② ③ ④ ⑤ ⑥

㊺ ① ② ③ ④ ⑤ ⑥

㊻ ① ② ③ ④ ⑤ ⑥

㊼ ① ② ③ ④ ⑤ ⑥

㊽ ① ② ③ ④ ⑤ ⑥

㊾ ① ② ③ ④ ⑤ ⑥

㊿ ① ② ③ ④ ⑤ ⑥

⑧ 1年生で ならった こと

① ② ③ ④ ⑤ ⑥

⑦ ① ② ③ ④ ⑤ ⑥

⑧ ① ② ③ ④ ⑤ ⑥

⑨ ① ② ③ ④ ⑤ ⑥

⑩ ① ② ③ ④ ⑤ ⑥

⑪ ① ② ③ ④ ⑤ ⑥

⑫ ① ② ③ ④ ⑤ ⑥

⑬ ① ② ③ ④ ⑤ ⑥

⑭ ① ② ③ ④ ⑤ ⑥

⑮ ① ② ③ ④ ⑤ ⑥

⑯ ① ② ③ ④ ⑤ ⑥

⑰ ① ② ③ ④ ⑤ ⑥

⑱ ① ② ③ ④ ⑤ ⑥

⑲ ① ② ③ ④ ⑤ ⑥

⑳ ① ② ③ ④ ⑤ ⑥

㉑ ① ② ③ ④ ⑤ ⑥

㉒ ① ② ③ ④ ⑤ ⑥

㉓ ① ② ③ ④ ⑤ ⑥

㉔ ① ② ③ ④ ⑤ ⑥

㉕ ① ② ③ ④ ⑤ ⑥

㉖ ① ② ③ ④ ⑤ ⑥

㉗ ① ② ③ ④ ⑤ ⑥

㉘ ① ② ③ ④ ⑤ ⑥

㉙ ① ② ③ ④ ⑤ ⑥

㉚ ① ② ③ ④ ⑤ ⑥

㉛ ① ② ③ ④ ⑤ ⑥

㉜ ① ② ③ ④ ⑤ ⑥

㉝ ① ② ③ ④ ⑤ ⑥

㉞ ① ② ③ ④ ⑤ ⑥

㉟ ① ② ③ ④ ⑤ ⑥

㊱ ① ② ③ ④ ⑤ ⑥

㊲ ① ② ③ ④ ⑤ ⑥

㊳ ① ② ③ ④ ⑤ ⑥

㊴ ① ② ③ ④ ⑤ ⑥

㊵ ① ② ③ ④ ⑤ ⑥

㊶ ① ② ③ ④ ⑤ ⑥

㊷ ① ② ③ ④ ⑤ ⑥

㊸ ① ② ③ ④ ⑤ ⑥

㊹ ① ② ③ ④ ⑤ ⑥

㊺ ① ② ③ ④ ⑤ ⑥

㊻ ① ② ③ ④ ⑤ ⑥

㊼ ① ② ③ ④ ⑤ ⑥

㊽ ① ② ③ ④ ⑤ ⑥

㊾ ① ② ③ ④ ⑤ ⑥

㊿ ① ② ③ ④ ⑤ ⑥

⑧ 1年生で ならった こと

① ② ③ ④ ⑤ ⑥

⑦ ① ② ③ ④ ⑤ ⑥

⑧ ① ② ③ ④ ⑤ ⑥

⑨ ① ② ③ ④ ⑤ ⑥

⑩ ① ② ③ ④ ⑤ ⑥

⑪ ① ② ③ ④ ⑤ ⑥

⑫ ① ② ③ ④ ⑤ ⑥

⑬ ① ② ③ ④ ⑤ ⑥

⑭ ① ② ③ ④ ⑤ ⑥

⑮ ① ② ③ ④ ⑤ ⑥

⑯ ① ② ③ ④ ⑤ ⑥

⑰ ① ② ③ ④ ⑤ ⑥

⑱ ① ② ③ ④ ⑤ ⑥

⑲ ① ② ③ ④ ⑤ ⑥

⑳ ① ② ③ ④ ⑤ ⑥

㉑ ① ② ③ ④ ⑤ ⑥

㉒ ① ② ③ ④ ⑤ ⑥

㉓ ① ② ③ ④ ⑤ ⑥

㉔ ① ② ③ ④ ⑤ ⑥

㉕ ① ② ③ ④ ⑤ ⑥

㉖ ① ② ③ ④ ⑤ ⑥

㉗ ① ② ③ ④ ⑤ ⑥

㉘ ① ② ③ ④ ⑤ ⑥

㉙ ① ② ③ ④ ⑤ ⑥

㉚ ① ② ③ ④ ⑤ ⑥

㉛ ① ② ③ ④ ⑤ ⑥

㉜ ① ② ③ ④ ⑤ ⑥

㉝ ① ② ③ ④ ⑤ ⑥

㉞ ① ② ③ ④ ⑤ ⑥

㉟ ① ② ③ ④ ⑤ ⑥

㊱ ① ② ③ ④ ⑤ ⑥

㊲ ① ② ③ ④ ⑤ ⑥

㊳ ① ② ③ ④ ⑤ ⑥

㊴ ① ② ③ ④ ⑤ ⑥

㊵ ① ② ③ ④ ⑤ ⑥

㊶ ① ② ③ ④ ⑤ ⑥

㊷ ① ② ③ ④ ⑤ ⑥

㊸ ① ② ③ ④ ⑤ ⑥

㊹ ① ② ③ ④ ⑤ ⑥

㊺ ① ② ③ ④ ⑤ ⑥

㊻ ① ② ③ ④ ⑤ ⑥

㊼ ① ② ③ ④ ⑤ ⑥

㊽ ① ② ③ ④ ⑤ ⑥

㊾ ① ② ③ ④ ⑤ ⑥

㊿ ① ② ③ ④ ⑤ ⑥

# アルファベット こもじ 小文字 **a b c**

おおもじ 大文字とのちがいに注意して、ちゅうい a から z まで かくにん 確認しましょう。

1 <b>a</b>  [エイ]	2 <b>b</b>  [ビー]	3 <b>c</b>  [スィー]	4 <b>d</b>  [ディー]	5 <b>e</b>  [イー]
6 <b>f</b>  [エフ]	7 <b>g</b>  [ゲー]	8 <b>h</b>  [エイチ]	9 <b>i</b>  [アイ]	10 <b>j</b>  [ジェイ]
11 <b>k</b>  [ケイ]	12 <b>l</b>  [エル]	13 <b>m</b>  [エム]	14 <b>n</b>  [エン]	15 <b>o</b>  [オウ]
16 <b>p</b>  [ピー]	17 <b>q</b>  [キュー]	18 <b>r</b>  [アー]	19 <b>s</b>  [エス]	20 <b>t</b>  [ティー]
21 <b>u</b>  [ユー]	22 <b>v</b>  [ヴィー]	23 <b>w</b>  [ダブルユー]	<div data-bbox="850 1294 1248 1671" data-label="Text"> <p><small>こもじ</small> 小文字も <b>26</b> <small>もじ</small> 文字あります。  <small>こもじ</small> 小文字は、<small>おおもじ</small> 大文字と  <small>かたち</small> 形や <small>かき</small> 書く <small>い</small> 位置が <small>ちが</small> ちがうので <small>ちゅうい</small> 注意しましょう。</p> </div>	
24 <b>x</b>  [エックス]	25 <b>y</b>  [ワイ]	26 <b>z</b>  [ズィー]		

カタカナの ふと 太い文字を つよ 強く言いましょう。



# こもじ 小文字 a~d

月 日 時 分~ 時 分


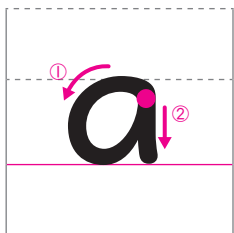
名前

① 文字の名前を確認しましょう。  
声に出しながらなぞった後、自分で2回書きましょう。

① 小文字 [エイ]




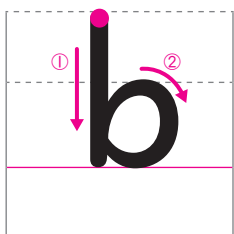
alligator



② 小文字 [ビー]




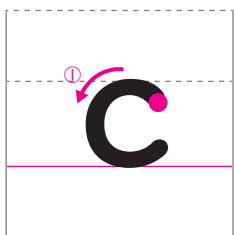
bag



③ 小文字 [スイー]




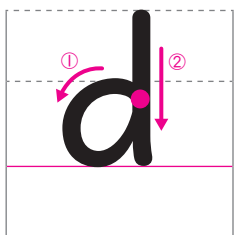
cap



④ 小文字 [ディー]



desk





# 2

## こもじ 小文字 e~l

月 日

し 時 分~ 時 分


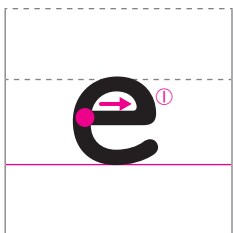
なまえ 名前

① もじの名前を確認しましょう。  
声に出しながらなぞった後、自分で2回書きましょう。

⑤ 小文字 [イー]



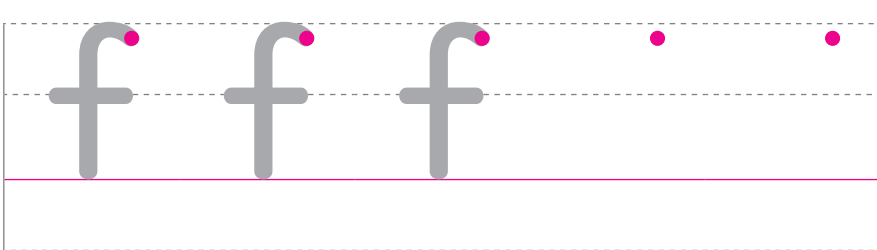
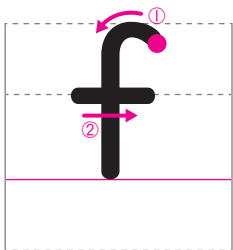
elephant



⑥ 小文字 [エフ]




fish



⑦ 小文字 [ジー]




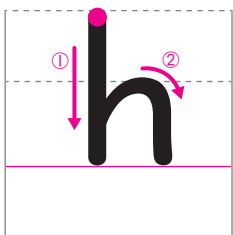
gum



⑧ 小文字 [エイチ]



hat

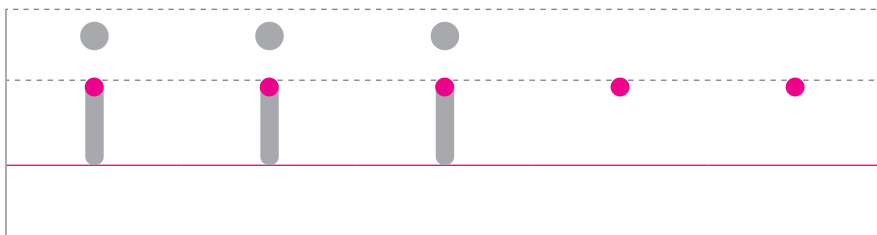
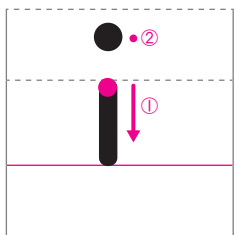


2 <sup>もじ</sup>文字の<sup>なまえ</sup>名前を<sup>かくにん</sup>確認しましょう。  
<sup>こえ</sup>声に出しながら<sup>あと</sup>なぞった後、<sup>じぶん</sup>自分で2回<sup>かい</sup>書きましょう。

⑨小文字 [アイ]



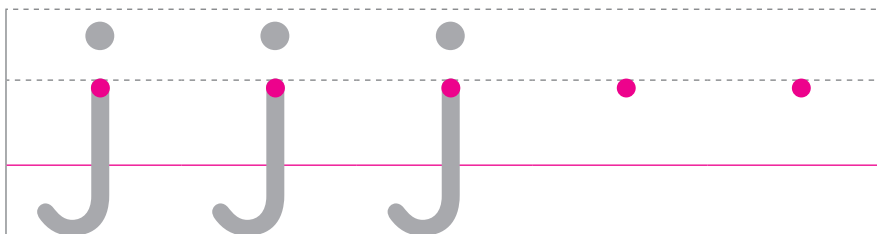
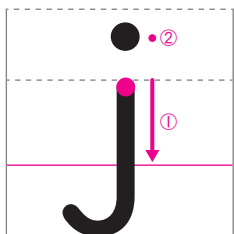
igloo



⑩小文字 [ジェイ]




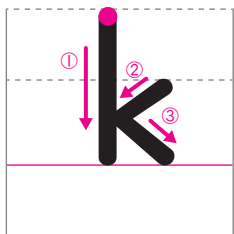
jam



⑪小文字 [ケイ]



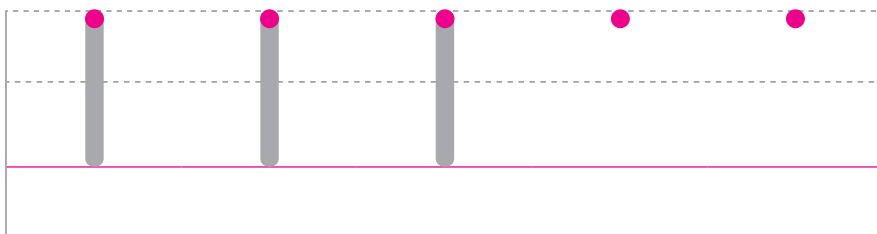
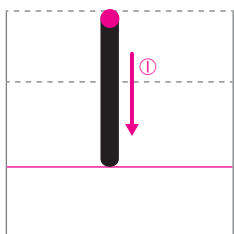
kangaroo



⑫小文字 [エル]



lemon





# こもじ 小文字 m~t

月 日

時 分~ 時 分

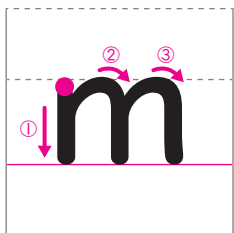
名前

① 文字の名前を確認しましょう。  
声に出しながらなぞった後、自分で2回書きましょう。

⑬ 小文字 [エム]



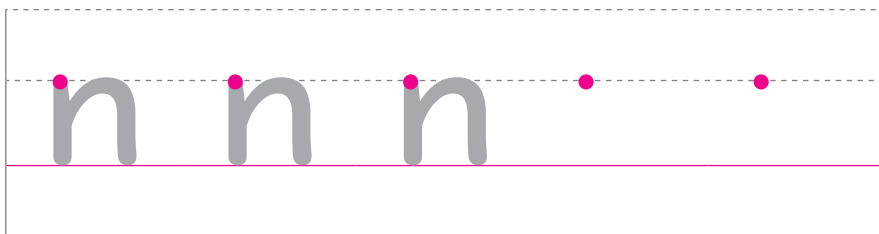
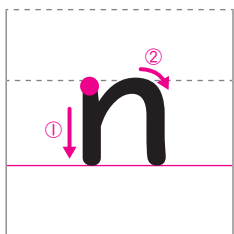
milk



⑭ 小文字 [エン]



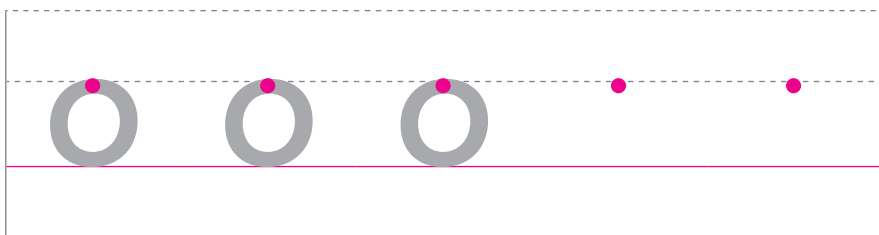
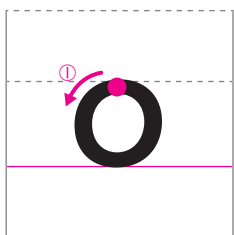
net



⑮ 小文字 [オウ]




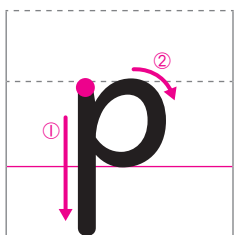
octopus



⑯ 小文字 [ピー]



piano



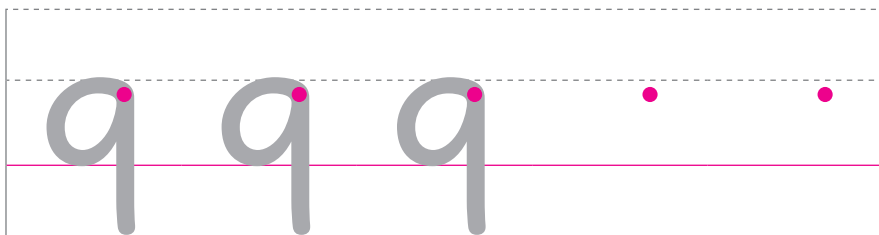
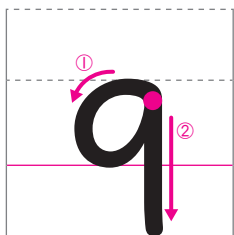


2 <sup>も</sup>じの<sup>な</sup>ま<sup>え</sup>を<sup>か</sup>く<sup>にん</sup>確認<sup>し</sup>ま<sup>し</sup>よ<sup>う</sup>。  
<sup>こ</sup>えに<sup>だ</sup>し<sup>な</sup>が<sup>ら</sup>な<sup>ぞ</sup>つ<sup>た</sup>後<sup>、</sup>自<sup>ら</sup>で<sup>2</sup>回<sup>書</sup>き<sup>ま</sup>し<sup>よ</sup>う。

⑰小文字 [キュー]



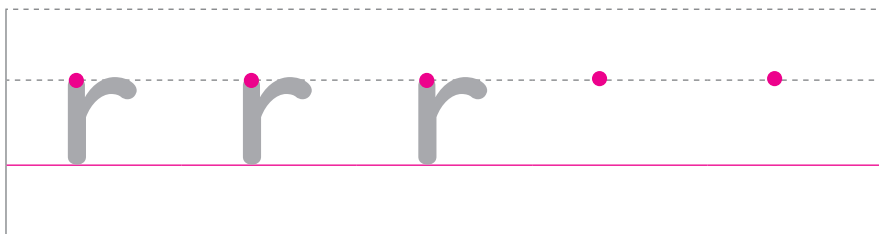
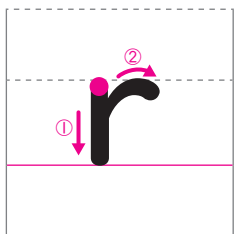
quiz



⑱小文字 [アー]




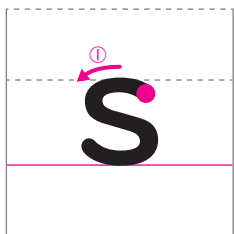
room



⑲小文字 [エス]



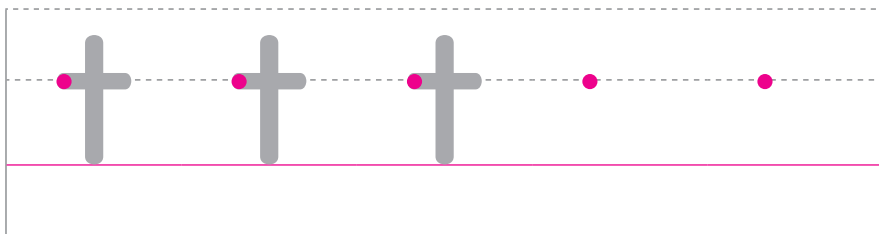
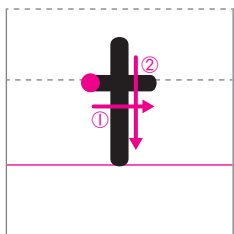
snow



⑳小文字 [ティー]



tennis





# こもじ 小文字 u~z

月 日 時 分~ 時 分



名前

① 文字の名前を確認しましょう。  
声に出しながらなぞった後、自分で2回書きましょう。

② 小文字 [ユー]



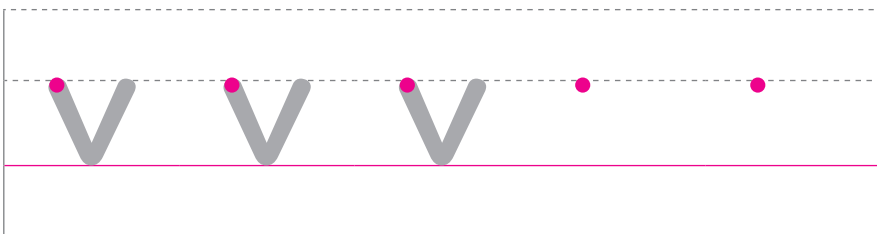
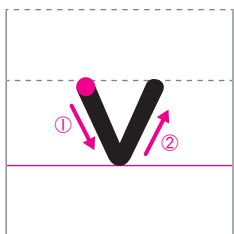
up



② 小文字 [ヴィー]



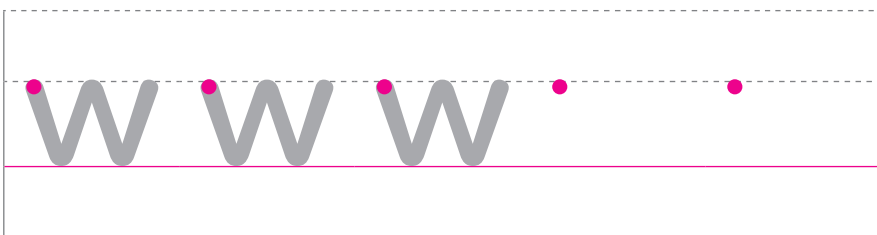

vest



③ 小文字 [ダブリュー]



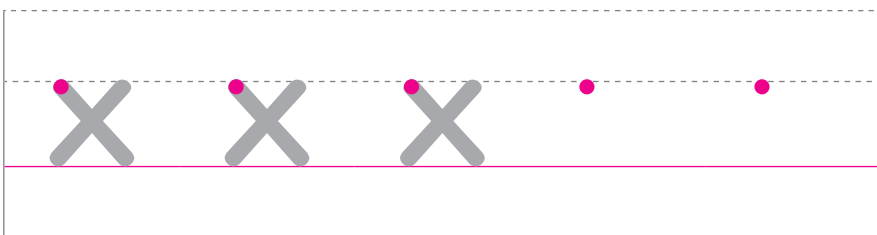
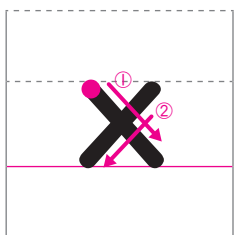
watch



④ 小文字 [イクス]


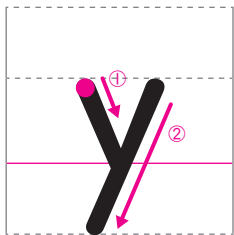


six

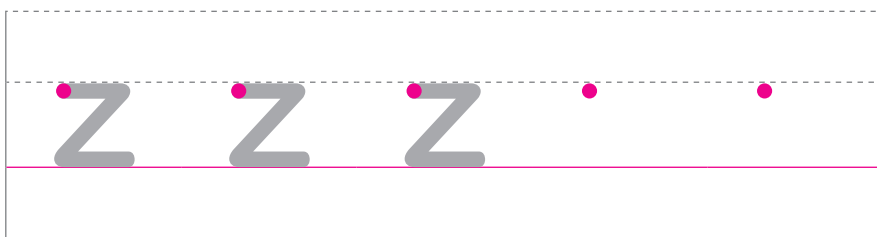
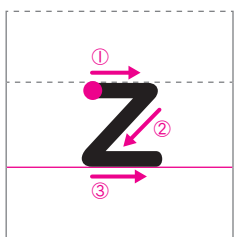


**2** 文字の名前を確認しましょう。  
 声に出しながらなぞった後、自分で2回書きましょう。

②⑤ 小文字 [ワイ]



②⑥ 小文字 [ズイー]



**3** 次の絵の中から、文字を見つけて○で囲みましょう。  
 4つかれています。





5

# こもじ 小文字 a~z

月 日

し 時 分~ 時 分

なまえ

1 a から z まで <sup>こえ</sup> 声に出しながら <sup>じゆん</sup> 順になぞりましょう。

a b c d e f

[エイ] [ビー] [スィー] [ディー] [イー] [エフ]

g h i j k l

[ジー] [エイチ] [アイ] [ヂェイ] [ケイ] [エル]

m n o p q r

[エム] [エン] [オウ] [ピー] [キュー] [アー]

s t u v w x

[エス] [ティー] [ユー] [ヴィー] [ダブリュー] [エックス]

y z

[ワイ] [ズィー]

こもじ か 小文字を書くときは <sup>ほん</sup> 4本の線 <sup>せん</sup> のどこに <sup>か</sup> 書くか <sup>き</sup> 気をつけよう。



2 a から z まで順に並ぶように、の中に正しく小文字を書きましょう。

<input type="checkbox"/>	b	c	<input type="checkbox"/>	<input type="checkbox"/>	f
[エイ]	[ビー]	[スィー]	[ディー]	[イー]	[エフ]

g	<input type="checkbox"/>	<input type="checkbox"/>	<input type="checkbox"/>	k	l
[ジー]	[エイチ]	[アイ]	[チェイ]	[ケイ]	[エル]

<input type="checkbox"/>	n	o	<input type="checkbox"/>	q	r
[エム]	[エン]	[オウ]	[ピー]	[キュー]	[アー]

s	<input type="checkbox"/>	<input type="checkbox"/>	v	<input type="checkbox"/>	x
[エス]	[ディー]	[ユー]	[ヴィー]	[ダブリュー]	[エックス]

<input type="checkbox"/>	z
[ワイ]	[ズィー]

a から z までのアルファベットの  
順番をおぼえることも大切だよ。





# に 似ている形の文字

月 日 時 分～ 時 分

名前

1 つぎの文字を、形のちがいに気をつけてなぞった後、自分で1回書きましょう。

b d

小文字 [ビー] b

小文字 [ディー] d

p q

小文字 [ピー] p

小文字 [キュー] q

v u

小文字 [ヴィー] v

小文字 [ユー] u

i j

小文字 [アイ] i

小文字 [ジェイ] j

h n

小文字 [エイチ] h

小文字 [エン] n