

もくじ

算
数

1	3年生で習ったこと ①	1
2	3年生で習ったこと ②	3
	しあげテスト1	5
	しあげテスト2	7
	しあげテスト3	9
	しあげテスト4	11
	しあげテスト5	13
	答え	15

英
語

1	a,b の発音	17
2	c,d の発音	18
3	e,f の発音	19
4	g,h の発音	20
5	i,j の発音	21
6	k,l の発音	22
7	m,n の発音	23
8	o,p の発音	24
9	q,r の発音	25
10	s,t の発音	26
11	u,v の発音	27
12	w,x の発音	28
13	y,z の発音	



3年生で習ったこと①

月 日 時 分～ 時 分

名前

点

① 次の計算をしましょう。

52点(1つ4)

①
$$\begin{array}{r} 248 \\ +125 \\ \hline \end{array}$$

②
$$\begin{array}{r} 403 \\ + \quad 7 \\ \hline \end{array}$$

③
$$\begin{array}{r} 406 \\ +208 \\ \hline \end{array}$$

④
$$\begin{array}{r} 346 \\ +197 \\ \hline \end{array}$$

⑤
$$\begin{array}{r} 764 \\ + \quad 79 \\ \hline \end{array}$$

⑥
$$\begin{array}{r} 207 \\ +394 \\ \hline \end{array}$$

⑦
$$\begin{array}{r} 615 \\ +285 \\ \hline \end{array}$$

⑧
$$\begin{array}{r} 832 \\ +516 \\ \hline \end{array}$$

⑨
$$\begin{array}{r} 549 \\ +873 \\ \hline \end{array}$$

⑩
$$\begin{array}{r} 372 \\ +686 \\ \hline \end{array}$$

⑪
$$\begin{array}{r} 177 \\ +823 \\ \hline \end{array}$$

⑫
$$\begin{array}{r} 906 \\ + \quad 94 \\ \hline \end{array}$$

⑬
$$\begin{array}{r} 998 \\ + \quad 2 \\ \hline \end{array}$$

⑨、⑪～⑬は
一、十、百の位で
それぞれ
くり上がるよ。



2 次の計算をしましょう。

①
$$\begin{array}{r} 483 \\ -159 \\ \hline \end{array}$$

②
$$\begin{array}{r} 761 \\ -716 \\ \hline \end{array}$$

③
$$\begin{array}{r} 347 \\ -171 \\ \hline \end{array}$$

④
$$\begin{array}{r} 425 \\ -363 \\ \hline \end{array}$$

⑤
$$\begin{array}{r} 538 \\ -85 \\ \hline \end{array}$$

⑥
$$\begin{array}{r} 622 \\ -245 \\ \hline \end{array}$$

⑦
$$\begin{array}{r} 305 \\ -158 \\ \hline \end{array}$$

⑧
$$\begin{array}{r} 700 \\ -234 \\ \hline \end{array}$$

⑨
$$\begin{array}{r} 500 \\ -62 \\ \hline \end{array}$$

⑩
$$\begin{array}{r} 300 \\ -7 \\ \hline \end{array}$$

くり上がりやくり
下がりがあるとき
は気をつけよう。



3 次の計算をしましょう。

①
$$\begin{array}{r} 1376 \\ +3165 \\ \hline \end{array}$$

②
$$\begin{array}{r} 7834 \\ -1729 \\ \hline \end{array}$$

4けたの筆算も、
計算のしかたは3
けたの筆算と同じ
ようにするよ。





3年生で習ったこと②

月 日 時 分～ 時 分

名前

点

① 次の計算をしましょう。

18点(1つ3)

$$\begin{array}{r} \textcircled{1} \quad 13 \\ \times 4 \\ \hline \end{array}$$

$$\begin{array}{r} \textcircled{2} \quad 36 \\ \times 3 \\ \hline \end{array}$$

$$\begin{array}{r} \textcircled{3} \quad 123 \\ \times 3 \\ \hline \end{array}$$

$$\begin{array}{r} \textcircled{4} \quad 369 \\ \times 4 \\ \hline \end{array}$$

$$\begin{array}{r} \textcircled{5} \quad 476 \\ \times 9 \\ \hline \end{array}$$

$$\begin{array}{r} \textcircled{6} \quad 307 \\ \times 6 \\ \hline \end{array}$$

② 次の計算をしましょう。

32点(1つ4)

$$\begin{array}{r} \textcircled{1} \quad 21 \\ \times 23 \\ \hline \end{array}$$

$$\begin{array}{r} \textcircled{2} \quad 14 \\ \times 13 \\ \hline \end{array}$$

$$\begin{array}{r} \textcircled{3} \quad 47 \\ \times 24 \\ \hline \end{array}$$

$$\begin{array}{r} \textcircled{4} \quad 30 \\ \times 32 \\ \hline \end{array}$$

$$\begin{array}{r} \textcircled{5} \quad 42 \\ \times 20 \\ \hline \end{array}$$

$$\begin{array}{r} \textcircled{6} \quad 146 \\ \times 37 \\ \hline \end{array}$$

$$\begin{array}{r} \textcircled{7} \quad 300 \\ \times 84 \\ \hline \end{array}$$

$$\begin{array}{r} \textcircled{8} \quad 304 \\ \times 45 \\ \hline \end{array}$$



3 次の計算をしましょう。

18点(1つ3)

① $6 \div 2$

② $5 \div 5$

③ $28 \div 4$

④ $18 \div 6$

⑤ $36 \div 3$

⑥ $77 \div 7$

4 次の計算をしましょう。あまりも出しましょう。

32点(1つ4)

① $7 \div 2$

② $10 \div 3$

③ $14 \div 4$

④ $35 \div 8$

⑤ $70 \div 9$

⑥ $47 \div 7$

⑦ $36 \div 5$

⑧ $53 \div 6$

あまりは、わる数より小さくなることに気をつけよう。





しあげのテスト1

月 日

もくひょう
目標時間 15分

名前

点

1 つぎ 次の数を数字でかきましょう。 16点(1つ4)

① 千万を3こ、百万を7こ、一万を4こ、千を2こあわせた数

()

② 十万を520こ集めた数

()

③ 760を100倍した数

()

④ 450を10でわった数

()

2 次の□にあてはまる数をかきましょう。 16点(1つ4)

① 1を3こ、0.1を5こあわせた数は□です。

② 0.1を23こ集めた数は、□です。

③ $\frac{7}{8}$ は、 $\frac{1}{8}$ を□に集めた数です。

④ $\frac{6}{10}$ を小数で表すと□です。

3 次の数のうち、大きいほうをかきましょう。 12点(1つ4)

① 4.3、3.4

② $\frac{5}{9}$ 、 $\frac{7}{9}$

③ $\frac{5}{4}$ 、1

()

()

()

4 次の□にあてはまる数をかきましょう。 16点(1つ4)

① 1080 m = □ km □ m

② 6000 g = □ kg

③ 1分20秒 = □ 秒

④ 3km500m = □ m

5 つぎ 次の時間や時こくを答えましょう。

12点(1つ4)

① 午前11時20分から午後2時までの時間

()

② 午前8時50分から50分後の時こく

()

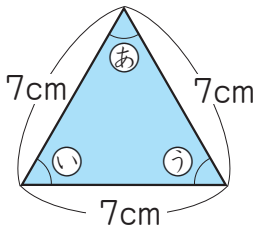
③ 午後5時から1時間30分前の時こく

()

6 次の角と等しい大きさの角はどれでしょう。

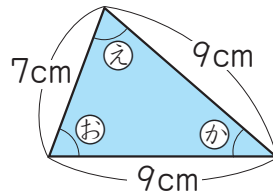
8点(1つ4)

①



あ ()

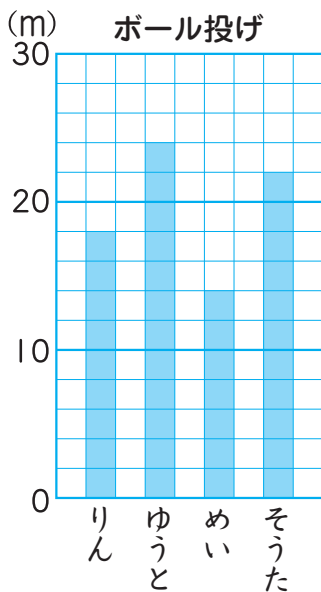
②



お ()

7 めいさんたちのボール投げの記録を、次のようなぼうグラフに表しました。

20点(1つ5)



① 1目もりは、何mを表しているでしょう。

()

② りんさんは、何m投げたでしょう。

()

③ いちばん遠くへ投げたのはだれでしょう。

()

④ りんさんとめいさんの投げた長さのちがいは何mでしょう。

()



しあげのテスト2

月 日

目標時間 15分

名前

点

1 つぎ 次の□にあてはまる数をかきましょう。

20点(1つ5)

① 43000 は、一万を □ に、千を □ にあわせた数です。

② 580000 は、千を □ に あつ 集めた数です。

③ 2.7 は 0.1 を □ に集めた数です。

④ $\frac{1}{6}$ を □ に集めると、1 になります。

2 次の数を大きいじゆんにかきましょう。

10点(1つ5)

① 4.1、3.9、4.5

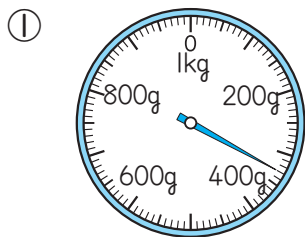
② $\frac{9}{7}$ 、 $\frac{6}{7}$ 、1

()

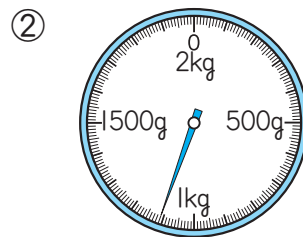
()

3 次のはかりの目もりをよみましょう。

10点(1つ5)



()



()

4 次の計算をしましょう。

20点(1つ5)

① 600 m + 800 m

② 1 km 200 m - 400 m

③ 1 kg 400 g + 900 g

④ 2 kg 500 g - 600 g

5 右の図のように、半径3cmの円を2つかきました。点ア、点イはそれぞれ円の中心です。

12点(1つ4)

① 一つの円の直径は何cmでしょう。

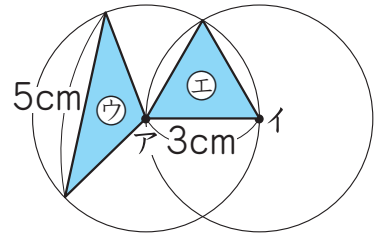
()

② ㊦の三角形を何というでしょう。

()

③ ㊥の三角形のまわりの長さは何cmでしょう。

()



6 次のような円や三角形をかきましょう。

8点(1つ4)

① 点アを中心とする直径4cmの円 ② 辺の長さが3cm、4cm、4cmの二等辺三角形

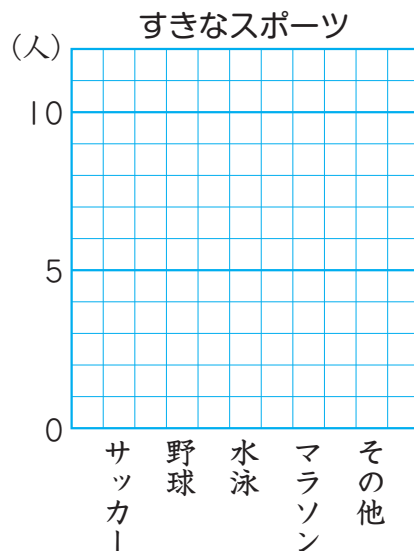
・ア

7 次の表は、けんたさんのクラスで好きなスポーツの人数を調べたものです。ぼうグラフに表しましょう。

全部できて20点

好きなスポーツ

スポーツ	人数(人)
水泳	5
サッカー	11
野球	9
マラソン	3
その他	7





しあげのテスト3

月 日

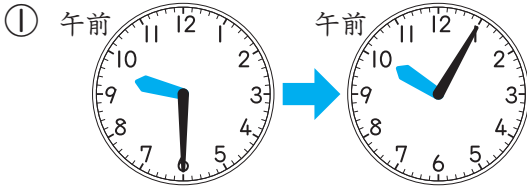
もくひょう
目標時間 15分

名前

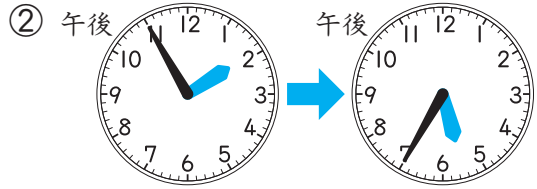
点

① 左の時こくから右の時こくまでの時間をもとめましょう。

10点(1つ5)



()



()

② ^{つぎ} 次の時間をもとめましょう。

20点(1つ5)

① 午前7時25分から午前8時10分までの時間

()

② 午後4時から午後6時35分までの時間

()

③ 午前9時40分から午後3時までの時間

()

④ 午前10時20分から午後1時30分までの時間

()

③ 次の時間をもとめましょう。

20点(1つ5)

① 50分と30分をあわせると、何時間何分ですか。

()

② 1時間10分と40分のちがいは、何分ですか。

()

③ 1時間40分と40分をあわせると、何時間何分ですか。

()

④ 3時間20分と1時間30分のちがいは、何時間何分ですか。

()

4 つぎの時刻をもとめましょう。

20点(1つ5)

① 午前6時50分から20分たった時刻 ()

② 午後2時35分から50分たった時刻 ()

③ 午後3時40分から1時間10分たった時刻 ()

④ 午前7時20分から2時間30分たった時刻 ()

5 次の時刻をもとめましょう。

20点(1つ5)

① 午前8時20分の30分前の時刻 ()

② 午後4時5分の25分前の時刻 ()

③ 午後7時40分の1時間20分前の時刻 ()

④ 午前11時の2時間10分前の時刻 ()

6 □にあてはまる数をかきましょう。

10点(1つ5)

① 1分9秒^{びょう} = □ 秒

② 110秒 = □ 分 □ 秒



しあげのテスト4

月 日

もくひょう
目標時間 15分

名前

点

1 つぎ 次の時間をもとめましょう。

24点(1つ4)

① 午後3時50分から午後4時20分までの時間 ()

② 午前6時15分から午前7時10分までの時間 ()

③ 午後5時30分から午後8時までの時間 ()

④ 午前8時10分から午前11時30分までの時間 ()

⑤ 午前9時から午後2時30分までの時間 ()

⑥ 午前10時40分から午後5時までの時間 ()

2 次の時間をもとめましょう。

16点(1つ4)

① 50分と40分をあわせると、何時間何分ですか。 ()

② 2時間と50分のちがいは、何時間何分ですか。 ()

③ 1時間50分と2時間10分をあわせると、何時間何分ですか。 ()

④ 3時間20分と1時間40分のちがいは、何時間何分ですか。 ()

3 つぎ 次の時こくをもとめましょう。

30点(1つ5)

- ① 午前 10 時 40 分から 50 分たった時こく ()
- ② 午後 3 時 20 分の 40 分前の時こく ()
- ③ 午後 6 時 50 分から 15 分たった時こく ()
- ④ 午前 8 時 10 分の 25 分前の時こく ()
- ⑤ 午後 1 時 30 分から 1 時間 20 分たった時こく ()
- ⑥ 午前 11 時の 1 時間 30 分前の時こく ()

4 どちらの時間が長いですか。

20点(1つ5)

- ① (71 ^{びょう}秒、1分7秒) ② (110 秒、2分)
- () ()
- ③ (1時間45分、95分) ④ (114分、1時間50分)
- () ()

5 ()にあてはまる時間のたんいをかきましよう。

10点(1つ5)

- ① 50 m を走るのにかった時間 10 ()
- ② 学校の休み時間 20 ()



しあげのテスト5

月 日

もくよう
目標時間 15分

名前

点

① にあてはまる数をかきましょう。

48点(1つ2)

① $3\text{km} = \text{ m}$

② $10\text{ km} = \text{ m}$

③ $2\text{km } 800\text{ m} = \text{ m}$

④ $8\text{km } 50\text{ m} = \text{ m}$

⑤ $4000\text{ m} = \text{ km}$

⑥ $20000\text{ m} = \text{ km}$

⑦ $5980\text{ m} = \text{ km } \text{ m}$

⑧ $7030\text{ m} = \text{ km } \text{ m}$

⑨ $6\text{kg} = \text{ g}$

⑩ $4\text{kg} = \text{ g}$

⑪ $5\text{kg } 100\text{ g} = \text{ g}$

⑫ $7\text{kg } 42\text{ g} = \text{ g}$

⑬ $9000\text{ g} = \text{ kg}$

⑭ $3000\text{ g} = \text{ kg}$

⑮ $8140\text{ g} = \text{ kg } \text{ g}$

⑯ $1090\text{ g} = \text{ kg } \text{ g}$

⑰ $8\text{t} = \text{ kg}$

⑱ $5\text{t} = \text{ kg}$

⑲ $3\text{t } 210\text{ kg} = \text{ kg}$

⑳ $6\text{t } 6\text{kg} = \text{ kg}$

㉑ $6000\text{ kg} = \text{ t}$

㉒ $3000\text{ kg} = \text{ t}$

㉓ $9070\text{ kg} = \text{ t } \text{ kg}$

㉔ $2004\text{ kg} = \text{ t } \text{ kg}$

2 にあてはまる数をかきましょう。

32点(□1つ4)

① 1mmを に集めた長さは1m、1mを に集めた

長さは1kmです。また、1mmを に集めた長さは1cm、

1cmを に集めた長さは1mです。

② 1mLを に集めたかさは1Lです。また、1dLを に集めたかさも1Lです。

③ 1gを に集めた重さは1kg、1kgを に集めた重さは1tです。

3 にあてはまる数をかきましょう。

20点(1つ2)

① $8\text{mm} = \text{ cm}$

② $6\text{cm}7\text{mm} = \text{ cm}$

③ $5.2\text{ cm} = \text{ cm mm}$

④ $9.3\text{ cm} = \text{ mm}$

⑤ $3\text{dL} = \text{ L}$

⑥ $78\text{ dL} = \text{ L}$

⑦ $2\text{L}4\text{dL} = \text{ L}$

⑧ $0.5\text{ L} = \text{ dL}$

⑨ $4.1\text{ L} = \text{ L dL}$

⑩ $1.6\text{ L} = \text{ dL}$

答え



1 3年生で習ったこと①

- ①373 ②410 ③614
④543 ⑤843 ⑥601
⑦900 ⑧1348 ⑨1422
⑩1058 ⑪1000 ⑫1000
⑬1000
- ①324 ②45 ③176
④62 ⑤453 ⑥377
⑦147 ⑧466 ⑨438
⑩293
- ①4541 ②6105

考え方 3けたのたし算、ひき算の筆算では、くり上がり、くり下がりに注意しながら計算することが大切です。

2 3年生で習ったこと②

- ①152 ②108 ③369
④1476 ⑤4284 ⑥1842
- ①483 ②182 ③1128
④960 ⑤840 ⑥5402
⑦25200 ⑧13680
- ①3 ②1 ③7
④3 ⑤12 ⑥11
- ①3 あまり1 ②3 あまり1
③3 あまり2 ④4 あまり3
⑤7 あまり7 ⑥6 あまり5
⑦7 あまり1 ⑧8 あまり5

考え方 ①②は、(2けた、3けた) × (1けた、2けた) のかけ算、③④は、わる数が1けたのわり算です。あまりは、わる数より小さくなることに注意しましょう。

答え



M (6) 1 2

- ①37042000 ②52000000
③76000 ④45
- ①3.5 ②2.3
③7 ④0.6
- ①4.3 ② $\frac{7}{9}$ ③ $\frac{5}{4}$
- ①1、80 ②6
③80 ④3500
- ①2時間40分 ②午前9時40分
③午後3時30分
- ①①、① ②②
③②m ④18m
⑤ゆうと ⑥4m

おうちの方へ ⑤ ①午前11時20分から正午までと、正午から午後2時までとに分けて考えます。②午前8時50分から9時までは10分で、あと40分後の時こくです。

M (6) 2

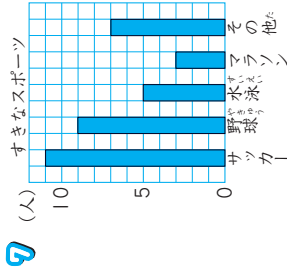
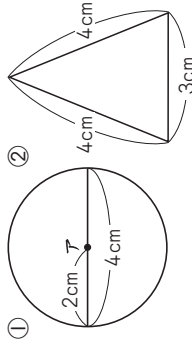
- ①4、3 ②580
③27 ④6
- ①4.5、4.1、3.9
② $\frac{9}{7}$ 、1、 $\frac{6}{7}$
- ①330g ②1kg110g
- ①600m+800m
=1400m=1km400m

M (6) 3

- ①4、3 ②580
③27 ④6
- ①4.5、4.1、3.9
② $\frac{9}{7}$ 、1、 $\frac{6}{7}$
- ①330g ②1kg110g
- ①600m+800m
=1400m=1km400m

- ②1km200m-400m
=1200m-400m=800m
- ③1kg400g+900g
=1kg1300g=2kg300g
- ④2kg500g-600g
=2500g-600g
=1900g=1kg900g

- ①6cm ②二等辺三角形
③9cm
- ①



おうちの方へ ④ 長さや重さの計算は同じたんいどうしをたしたり、ひいたりします。そのままではひけないときは、mやgのたんいにそろえて計算します。たんいのかん係をしっかりとんでおきましょう。

答 え



問題テスト3

- 1 ①35分(35分間) ②3時間40分
- 2 ①45分(45分間) ②2時間35分 ③5時間20分 ④3時間10分
- 3 ①1時間20分 ②30分(30分間) ③2時間20分 ④1時間50分
- 4 ①午前7時10分 ②午後3時25分 ③午後4時50分 ④午前9時50分
- 5 ①午前7時50分 ②午後3時40分 ③午後6時20分 ④午前8時50分
- 6 ①69 ②1、50

毎おうちの方へ 3年生で習ったことが身についたかどうかをたしかめるしあげのテストです。時間をはかって取りくみましょう。

問題テスト4

- 1 ①30分(30分間) ②55分(55分間) ③2時間30分 ④3時間20分 ⑤5時間30分 ⑥6時間20分
- 2 ①1時間30分 ②1時間10分 ③4時間 ④1時間40分
- 3 ①午前11時30分 ②午後2時40分 ③午後7時5分 ④午前7時45分 ⑤午後2時50分 ⑥午前9時30分
- 4 ①71秒 ②2分
- 5 ③1時間45分 ④114分 ①秒 ②分

毎おうちの方へ 時間をはかって、真ん中して取りくみましょう。まちがえた問題はやり直しておきましょう。

答 え



問題テスト5

- 1 ①3000 ②10000 ③2800 ④8050 ⑤4 ⑥20 ⑦5、980 ⑧7、30 ⑨6000 ⑩4000 ⑪5100 ⑫7042 ⑬9 ⑭3 ⑮8、140 ⑯1、90 ⑰8000 ⑱5000 ⑲3210 ⑳6006 ㉑6 ㉒3 ㉓9、70 ㉔2、4
- 2 ①1000、1000、10、100 ②1000、10、31000、1000
- 3 ①0.8 ②6.7 ③5、2 ④93 ⑤0.3 ⑥7.8 ⑦2.4 ⑧5 ⑨4、1 ⑩16

考え方 ① いろいろなたんいがかまじっているので、気をつけましょう。
 ② 1000 mm = 1 m、1000 m = 1 km、10 mm = 1 cm、100 cm = 1 m、1000 mL = 1 L、10 dL = 1 L、1000 g = 1 kg、1000 kg = 1 t です。



はつおん a, b の発音

月	日	時	分～	時	分
名前					

♪ Let's Chant!

A a

もじ 文字の名前	[エイ]
もじ 文字の発音	[ア]

～エ～ア～



日本語の「エ」の口で「ア」と発音します。
口のはしを横に引っばるようになってみましょう。



りんご

[アップル]

apple	apple
-------	-------



わに

[アリゲイター]

alligator	alligator
-----------	-----------

♪ Let's Chant!

B b

もじ 文字の名前	[ビー]
もじ 文字の発音	[ブツ]

ブツ



くちびるを閉じて、はじくように発音します。
風船が割れるような音をまねてみましょう。



くま
熊

[ベア]

bear	bear
------	------



かばん

[バッグ]

bag	bag
-----	-----



2

はつおん c,dの発音

月 日 時 分～ 時 分

名前

♪ Let's Chant!

C c

文字の名前	[スイー]
文字の発音	[クッ]

クッククッ



のどのおくから勢いよく息を出して発音します。
 笑ったときの「クッククッ」の音にととても似ています。



ねこ

[キャット]

cat	cat
-----	-----



(ふちのない) ぼうし

[キャップ]

cap	cap
-----	-----

♪ Let's Chant!

D d

文字の名前	[ディー]
文字の発音	[ドゥ]

勢いよく息を出して「ドゥ」と発音します。
 長くのばさないように言うときれいに聞こえます。



いぬ 犬

[ド(ー)グ]

dog	dog
-----	-----



ぶくろ 机

[デスク]

desk	desk
------	------



はつおん e, f の発音

月 日 時 分～ 時 分

名前

♪ Let's Chant!


E e

もじ なまえ 文字の名前	[イー]
もじ はつおん 文字の発音	[エ]

くちびり はつおん ま
口は指2本分開ける

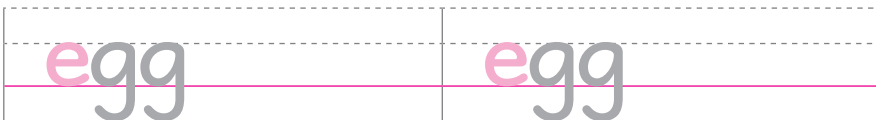


日本語の「エ」によく似た発音です。
くちびるを左右に引きながら、強く声を出しましょう。



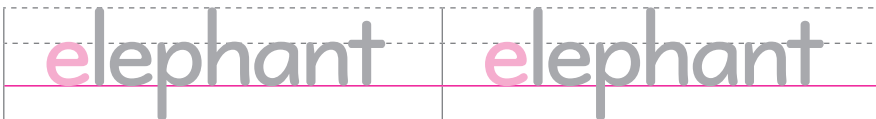
たまご
卵

[エッグ]



ぞう
象

[エレファント]



♪ Let's Chant!

F f

もじ なまえ 文字の名前	[エフ]
もじ はつおん 文字の発音	[フ]

した くちびるを軽くかむ

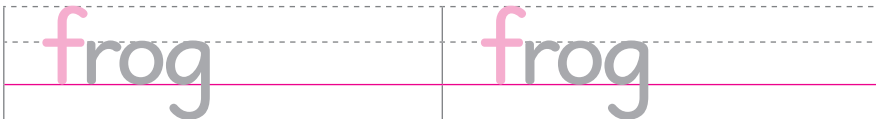


上の歯で下のくちびるをかみながら、息をはいて発音します。



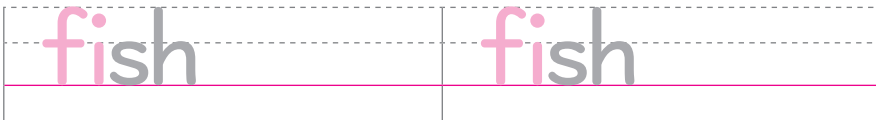
かえる

[フラ(ー)ッグ]



さかな
魚

[フィッシュ]





4

はつおん g, h の発音

月 日 時 分 ~ 時 分

名前

♪ Let's Chant!

G g

もじ なまえ 文字の名前	[ヂー]
もじ はつおん 文字の発音	[グッ]

のどのおくから勢いよく息を出して「グッ」と発音します。



ガム

[ガム]

gum gum



ゴリラ

[ゴリラ]

gorilla gorilla

♪ Let's Chant!

H h

もじ なまえ 文字の名前	[エイチ]
もじ はつおん 文字の発音	[ハッ]

息をはくようにのどのおくから息を出します。ため息をつくときの声によく似ています。

ハー



うま
馬

[ホース]

horse horse



(ふちのある) ぼうし

[ハット]

hat hat



はつおん i, j の発音

月 日 時 分～ 時 分

名前

Let's Chant!

I i

もじ なまえ 文字の名前	[アイ]
もじ はつおん 文字の発音	[イ]

ゆび ほんぶん ま
指 | 本分ける



👉 日本語の「エ」に近い「イ」の音です。
くち せび ほんぶん あ
口は指1本分だけ開けるようにします。



イグルー

[イグルー]

igloo igloo



イグアナ

[イグワナー]

iguana iguana

Let's Chant!

J j

もじ なまえ 文字の名前	[ヂエイ]
もじ はつおん 文字の発音	[ヂュ]

👉 くちびるを少し丸めて発音します。
すこ まる はつおん
舌の先を下の歯の裏に軽くあてて言ってみましょう。



くらげ

[ヂェリフィッシュ]

jellyfish jellyfish



ジャム

[ヂャム]

jam jam



はつおん k, l の発音

月 日 時 分～ 時 分

名前

Let's Chant!

K k

もじ なまえ 文字の名前	[ケイ]
もじ はつおん 文字の発音	[クツ]

クツクツクツ



👉 cの「クツ」と同じ発音です。
「クツクツクツ」と笑う人の声を思い出しましょう。



おうさま
王様

[キング]

king king



カンガルー

[キャンガルー]

kangaroo kangaroo

Let's Chant!


L l

もじ なまえ 文字の名前	[エル]
もじ はつおん 文字の発音	[ル]

まえば うら つ
前歯の裏に付ける



👉 舌の先を前歯の裏に付けて音を出します。
前歯の裏をなめるイメージをしてみましょう。



ライオン

[ライオン]

lion lion



レモン

[レモン]

lemon lemon



はつおん m, n の発音

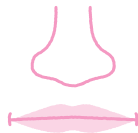
月	日	時	分～	時	分
名前					

♪ Let's Chant!

M m

もじ 文字の名前	[エム]
もじ 文字の発音	[ム]

くち
は閉じて



くちびるを閉じたまま、鼻から息をぬいて「ム」と発音しましょう。



さる

[マンキイ]

monkey monkey



ちゅう
牛乳

[ミルク]

milk milk

♪ Let's Chant!

N n

もじ 文字の名前	[エン]
もじ 文字の発音	[ンヌ]

くち
は開けて



mと同じように鼻から息をぬいて「ンヌ」と発音しますが、口は開けたままなので注意しましょう。



9

[ナイン]

nine nine



あみ

[ネット]

net net



はつおん o, p の発音

月 日 時 分～ 時 分

名前

♪ Let's Chant!


O o

もじ なまえ 文字の名前	[オウ]
もじ はつおん 文字の発音	[ア]

あくびの口で



のどのおくのほうから息を出します。あくびをするようなイメージで口を大きく開けて言ってみましょう。



たこ

[ア(ー)クトパス]

octopus octopus



10月

[ア(ー)クトウバア]

October October

♪ Let's Chant!

P p

もじ なまえ 文字の名前	[ピー]
もじ はつおん 文字の発音	[プツ]

プツ



閉じたくちびるをはじくように息だけで発音します。bの口を思い出してみよう。



ぶた

[ピッグ]

pig pig



ピアノ

[ピアノウ]

piano piano



はつおん q,rの発音

月	日	時	分～	時	分
名前					

♪ Let's Chant!

Q q

もじ 文字の名前	[キュー]
もじ 文字の発音	[クワ]

👉 cやkの「クツ」と同じ発音です。
後ろにuが付いて「クウ」と発音します。



じょおう
女王

[クウィーン]

queen	queen
-------	-------



クイズ

[クウィズ]

quiz	quiz
------	------

♪ Let's Chant!

R r

もじ 文字の名前	[アー]
もじ 文字の発音	[ル]

👉 舌を口の中のどこにも付けずに、
口ぶえのように口を丸めて言います。

くぶえの口



うさぎ

[ラビット]

rabbit	rabbit
--------	--------



へや
部屋

[ルーム]

room	room
------	------



10

はつおん s, t の発音

月 日 時 分～ 時 分

名前

♪ Let's Chant!

S s

もし なまえ 文字の名前	[エス]
もし はつおん 文字の発音	[ス]

はと歯のすき間から



は は かる あ
歯と歯を軽く合わせるようにして、
そのすき間から息を出すように発音します。



たいよう
太陽

[サン]

sun

sun



ゆき
雪

[スノウ]

snow

snow


♪ Let's Chant!

T t

もし なまえ 文字の名前	[ティー]
もし はつおん 文字の発音	[トゥ]

いき いき だ はつおん
勢いよく息を出して発音しましょう。

[トゥ] とははっきりと言うのではなく息をはく流れて発音しましょう。



かめ

[タートゥル]

turtle

turtle



テニス

[テニス]

tennis

tennis



はつおん u, v の発音

月	日	時	分～	時	分
名前					

♪ Let's Chant!

U u

もし なまえ 文字の名前	[ユー]
もし はつおん 文字の発音	[ア]



👄 くち口はあまり大きく開けず、おお何かに気づいたときの
あように、な力強く「アッ」と言しましょう。



[アップ]

up	up
----	----



[アンブレラ]

umbrella	umbrella
----------	----------

♪ Let's Chant!

V v

もし なまえ 文字の名前	[ヴィー]
もし はつおん 文字の発音	[ヴ]

した下くちびるを軽くかむ



👄 した下くちびるを軽くかむようにして発音します。
おなfと同じ口の形で音を出しましょう。



[ヴェスト]

vest	vest
------	------



[ヴァイオリン]

violin	violin
--------	--------



12

はつおん W, X の発音

月 日 時 分～ 時 分

名前

♪ Let's Chant!

W w

もじ なまえ 文字の名前	[ダブリュー]
もじ はつおん 文字の発音	[ウツ]



👄 くち口をすぼめて、つきだしながらはつおん発音します。
あつのもの「フーッ」とさますときのくち口を
まねしましょう。



おおかみ

[ウルフ]

wolf

wolf



どけい
うて時計

[ワ(ー)ツチ]

watch

watch

♪ Let's Chant!

X x

もじ なまえ 文字の名前	[エックス]
もじ はつおん 文字の発音	[クス]

クスクス



👄 いき息だけで発音し、「ク」と「ス」をすばやくつなげる
はつおんように発音します。「クスクス」という笑い声にも似ています。



きつね

[ファ(ー)ックス]

fox

fox



6

[スイックス]

six

six



13

はつおん y, z の発音

月 日 時 分 ~ 時 分

名前

Let's Chant!

Y y

もじ <small>なまえ</small> 文字の名前	[ワイ]
もじ <small>はつおん</small> 文字の発音	[イク]

舌の先に力をこめて「イク」と発音します。



ヨット

[ヤ(ー)ット]

yacht yacht



ヨーヨー

[ヨウヨウ]

yo-yo yo-yo

Let's Chant!

Z z

もじ <small>なまえ</small> 文字の名前	[ズイー]
もじ <small>はつおん</small> 文字の発音	[ズ]

歯と歯を合わせて

歯と歯を軽く合わせて、そのすき間から息を出します。きちんと「ズ」の音が出るように言いましょう。



しまうま

[ズイーブラ]

zebra zebra



どうぶつえん
動物園

[ズー]

zoo zoo